

PROVA PRATICO ATTITUDINALE – QUESITO A

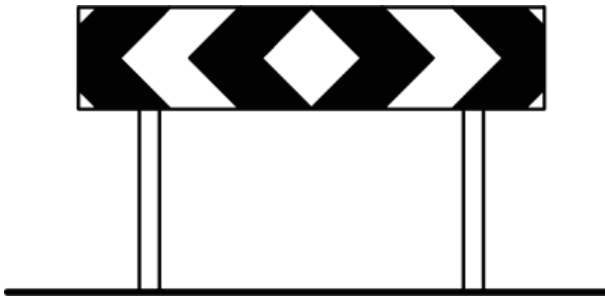
A seguito di un forte temporale in orario notturno un albero è caduto ed ha invaso metà della carreggiata stradale dentro al centro abitato. Il candidato illustri:

- le operazioni necessarie per delimitare la carreggiata stradale occupata dall'albero garantendo il transito sulla corsia rimasta libera;
- la segnaletica necessaria secondo il Codice della Strada;
- i DPI necessari per lo svolgimento delle attività;
- il personale necessario a svolgere tale attività;
- le operazioni necessarie per abbattere l'albero e sistemare il terreno una volta abbattuto.

BUSTA 1

1) La polizia municipale avvisa che lungo una strada del centro urbano un mezzo pesante ha perso olio creando un'ampia macchia sul manto stradale. Il candidato illustri come intende procedere per la segnalazione e la successiva eliminazione del pericolo.

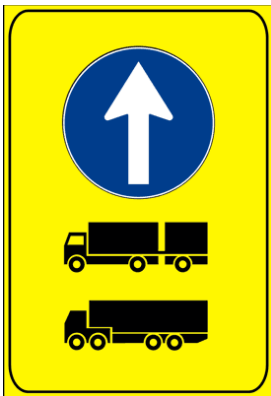
2) il candidato illustri il significato dei seguenti segnali stradali, come e dove devono essere correttamente posizionati:



BUSTA 2

1) A causa di una perdita d'acqua e delle temperature molto rigide si è creato un ampio strato ghiacciato davanti ad una scuola. Il candidato illustri le attività da compiere per evidenziare il pericolo ed eliminarlo.

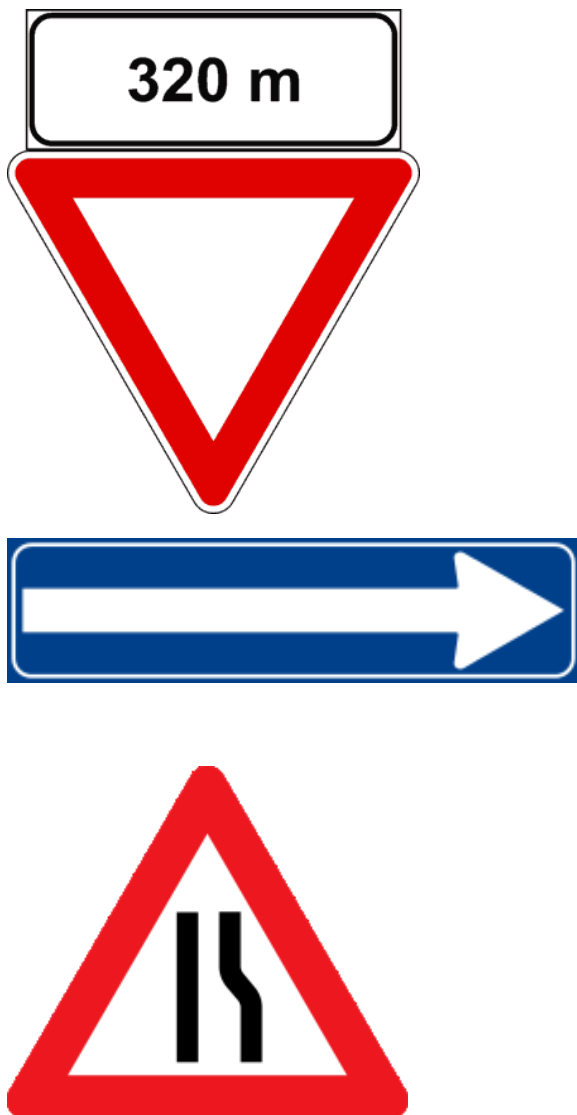
2) il candidato illustri il significato dei seguenti segnali stradali, come e dove devono essere correttamente posizionati:



BUSTA 4

1) A causa dell'intasamento da foglie, si rende necessario pulire un pozzetto di scolo acque meteoriche in prossimità di un incrocio a T nel centro del capoluogo. Come si intende organizzare il lavoro sulla sede stradale e svolgerlo in sicurezza?

2) il candidato illustri il significato dei seguenti segnali stradali, come e dove devono essere correttamente posizionati:



BUSTA 5

1) La polizia municipale segnala che una radice di un albero ha sollevato un marciapiede tanto da renderlo pericoloso ed infatti alcuni cittadini sono inciampati ed hanno riportato lievi ferite. Come si intende procedere per segnalare ed eliminare il pericolo?

2) il candidato illustri il significato dei seguenti segnali stradali, come e dove devono essere correttamente posizionati:

